

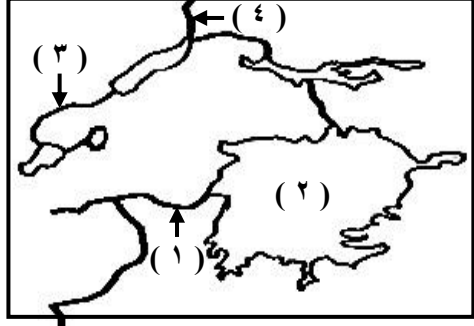
	التاريخ
	التوقيع
	الاسم
	التاريخ
	التوقيع
	الاسم

رُوجح ومطابق الأصل اليدوي ويطبع على مسئولية اللجنة الفنية ،

تابع [ ٥٩ ] ث.ع/ث/ح [ ٢ ] [ ١٥/ن.ح ]

(ج) أمامك خريطة صماء للمنابع الاستوائية لنهر النيل . اكتب في كراسة إجابتك مدلول الأرقام

الموقعة عليها :



- ١- نهر .....
- ٢- بحيرة .....
- ٣- نهر .....
- ٤- نيل .....

**السؤال الثاني : ( ١٥ درجة )**

( أ ) ما النتائج المترتبة على ... ؟

- ١- التقاء النيل الأزرق بالنيل الأبيض .
- ٢- تقدم الدلتا في البحر قبل بناء السد العالي .
- ٣- خفض الاستهلاك المحلى من البترول .

( ب ) ما أوجه الشبه والاختلاف بين كل من ... ؟

- ١- سد أوين والسد العالي .
- ٢- واحة سيوة ومنخفض وادى الريان .

( ج ) ما المقصود بكل من ... ؟

- ١- الدلتا .
- ٢- الرهو .
- ٣- التركيب العمرى .

[ بقية الأسئلة فى الصفحة الثالثة ]

[ ٥٩ ] ث.ع/ث/ح جمهورية مصر العربية

وزارة التربية والتعليم

امتحان شهادة إتمام الدراسة الثانوية العامة - نظام حديث لعام ٢٠١٥ م

[ الدور الثانى ]

الزمن : ثلاث ساعات

الجغرافيا

تنبيه مهم : الإجابات المتكررة عن أسئلة الاختيار من متعدد والصواب والخطا لن تقدر ويتم تقدير الإجابة الأولى فقط .

**أجب عن الأسئلة الآتية :**

**السؤال الأول : ( ١٥ درجة )**

( أ ) اختر الإجابة الصحيحة مما بين القوسين :

- ١- تفصل بين بحيرات نهر الكونغو جنوبا وبحيرات نهر النيل شمالاً جبال .....  
( رنزورى - الجون - موفميرو - كردفان )
- ٢- يختزن نهر السوبات أثناء فيضانه جزء من مياه .....  
( النيل الأبيض - النيل الأزرق - بحر الجبل - بحر الغزال )
- ٣- يبدأ الحد السياسى الشرقى لمصر من نقطة شمالاً تقع إلى الشرق من مدينة .....  
( حلایب - طابا - رفح - السلوم )
- ٤- تتحكم فى مناخ مصر وبدونها يصبح مناخ مصر على وتيرة واحدة .....  
( الانخفاضات الجوية - التضاريس - المسطحات المائية - الموقع )
- ٥- تقع ترعة الشيخ زايد جنوب .....  
( الخطاطبة - الفيوم - الوادى الجديد - خور توشكى )
- ٦- من مناطق إنتاج الفحم فى مصر .....  
( جبل المغارة - الواحات الداخلة - جبل علبه - المحاميد )
- ٧- تمثل ربع الواردات المصرية .....  
( المواد الغذائية - الكميائيات - الماكينات والمعدات - السياحة )

( ب ) بم تفسر ... ؟

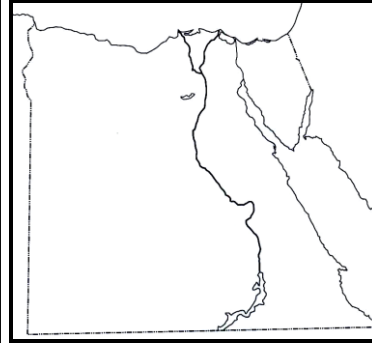
- ١- الأهمية الاستراتيجية لشبه جزيرة سيناء .
- ٢- صناعة الأسمدة تنتظر مستقبلا مرموقاً فى مصر .
- ٣- إقامة ميناء دمياط الجديد .

[ بقية الأسئلة فى الصفحة الثانية ]

التاريخ			
التوقيع			
الاسم			
التاريخ			
التوقيع			
الاسم			

رُوجع ومطابق للأصل النيوى ويطبع على مسئولية اللجنة الفنية ،

تابع [٥٩] ث.ع/ث/ح [٤] [١٥/ن.ح]	تابع [٥٩] ث.ع/ث/ح [٣] [١٥/ن.ح]
<p><b>السؤال الرابع : ( ١٥ درجة )</b></p> <p>( أ ) ماذا يحدث إذا ... ؟</p> <p>١- لم توجد الجنادل فى النيل النوبى .</p> <p>٢- سقطت الأمطار بغزارة على إقليم البحر الأحمر .</p> <p>٣- انخفضت معدلات المواليد فى مصر .</p> <p>( ب ) ( مصر غنية بمواردها الطبيعية والبشرية وتسعى دائما لتنمية هذه الموارد ) .</p> <p>فى ضوء هذه العبارة أجب عما يأتى :</p> <p>١- ما الفرق بين المرحلة البدائية للسكان ومرحلة الانفجار السكانى ؟</p> <p>٢- ما الظروف الملائمة لزراعة القمح ؟ وأين تتركز زراعته ؟</p> <p>٣- ما مقترحاتك لتنمية الثروة الحيوانية فى مصر ؟</p> <p>٤- كيف يمكن تحقيق التنمية الصناعية فى مصر من وجهة نظرك ؟</p> <p>( ج ) فى رأيك كيف يمكن لمصر استعادة مكانتها سياحياً ؟</p> <p>[ انتهت الأسئلة ]</p>	<p><b>السؤال الثالث : ( ١٥ درجة )</b></p> <p>( أ ) اكتب كلمة ( صح ) أمام العبارة الصحيحة وكلمة ( خطأ ) أمام العبارة غير الصحيحة مع ذكر السبب فى الحالتين :</p> <p>١- يعد نهر الدندر البداية الحقيقية للمناخ الاستوائية لنهر النيل . ( )</p> <p>٢- يتشابه نيل فيكتوريا مع النيل الأزرق فى مائه وقوته . ( )</p> <p>٣- أقيم خزان جبل الأولياء على النيل الأزرق لصالح مصر . ( )</p> <p>٤- تهب الرياح الشمالية التجارية على مصر شتاءً . ( )</p> <p>٥- المهاجرون من جنوب الصعيد أكثر من شماله . ( )</p> <p>٦- تعتبر محافظة البحيرة من المحافظات المنخفضة الكثافة . ( )</p> <p>٧- تأخذ ترعة النصر مياهها من خور توشكى . ( )</p> <p>( ب ) ما العلاقة بين كل مما يأتى ... ؟</p> <p>١- الأخدود الشرقى فى قارة أفريقيا والمناخ الموسمية لحوض النيل .</p> <p>٢- كثافة السكان ونوع التربة فى الدلتا .</p> <p>( ج ) أمامك خريطة صماء لمصر انقلها فى كراسة إجابتك ثم وقع عليها :</p> <p>١- أعلى قمة جبلية فى مصر .</p> <p>٢- تيار هجرة إلى البحر الأحمر .</p> <p>٣- حقل بترول مختلط بالغاز الطبيعى فى الصحراء الغربية .</p> <p>٤- قناطر أسيوط .</p> <p>[ بقية الأسئلة فى الصفحة الرابعة ]</p>



الدرجة العظمى (٦٠)  
الدرجة الصغرى (٣٠)  
عدد الصفحات (٤)

جمهورية مصر العربية  
وزارة التربية والتعليم  
امتحان شهادة إتمام الدراسة الثانوية العامة  
لعام ٢٠١٥ م  
نموذج إجابة [ الجغرافيا ]

[ ٥٩ ]  
الدور الثانى  
( نظام حديث )

إجابة السؤال الأول : ( ١٥ درجة ) [ ( أ ) ٧ درجات - ( ب ) ٦ درجات - ( ج ) درجتان ]

( أ ) ٧ درجات كل مفردة درجة

١- موفبيرو . ص ١٠ ، ١١

٢- بحر الجبل . ص ٢٤

٣- رفح . ص ٤٨

٤- الانخفاضات الجوية . ص ٧٢ ، ٧٣

٥- خور توشكى . ص ١٠٠

٦- جبل المغارة . ص ١١٤

٧- المواد الغذائية . ص ١٤٠

( ب ) ٦ درجات لكل مفردة درجتان

١- حيث تعد سيناء :

- بوابة مصر الشرقية .

- محور الاتصال بين آسيا وأفريقيا .

- خط الدفاع الأول عن مصر . ص ٦٦

٢- حيث تتوافر خاماتها الأساسية ويزداد الطلب عليها فى السوق المحلية بالإضافة إلى دعم الدولة لسد الحاجات

محليا ووقف الاستيراد . ص ١٢١

٣- لتخفيف الضغط عن ميناء الإسكندرية الذى أصيب بالتضخم والعجز . ص ١٣٦

( ج ) درجتان لكل مفردة نصف درجة

١- كاجيرا .

٢- فيكتوريا .

٣- السمليكى .

٤- ألبرت .

## إجابة السؤال الثانى : ( ١٥ درجة ) [ ( أ ) ٦ درجات - ( ب ) ٦ درجات - ( ج ) ٣ درجات ]

## ( أ ) ٦ درجات لكل مفردة درجتان

- ١- أدى ذلك إلى تجدد شباب النيل - اتجاه النيل نحو الشمال باسم النيل النوبى - حجز مياه النيل الأبيض فأصبح أشبه ببحيرة راكدة مستطيلة . ص ١٥
- ٢- ترتب على ذلك تكون رؤوس ضاربة فى البحر المتوسط - تراجع مدينتى دمياط ورشيد عن البحر . ص ٥٥
- ٣- ترتب على ذلك زيادة الصادرات البترولية المصرية - زيادة العائدات منه وزيادة الدخل القومى . ص ١١٥

## ( ب ) ٦ درجات

١- ٣ درجات : وجه الشبه درجة والاختلاف درجتان

وجه المقارنة	سد أوين	السد العالى
الشبه	١- من مشروعات التخزين القرنى . ٢- يستفاد منهم فى توليد الكهرباء .	
الاختلاف	- يقع على نيل فيكتوريا عند مخرجه من بحرة فيكتوريا . - لم تتم الاستفادة الكاملة منه حتى الآن . ص ٣٢	- يقع جنوب أسوان . - إنقاذ مصر من خطر الفيضان . - حماية مصر من أخطار الجفاف . - التوسع الزراعى .

٢- ٣ درجات : وجه الشبه درجة والاختلاف درجتان

وجه المقارنة	واحة سيوة	منخفض وادى الريان
الشبه	١- كل منهما من منخفضات الصحراء الغربية . ٢- تصريفهم داخلى .	
الاختلاف	- جزء من منخفض هائل يوجد فى شمال الصحراء الغربية . - أغنى واحات مصر ماء . - غنية بالأنشطة الاقتصادية الزراعية والرعية . ص ٦١	- إلى الجنوب الغربى من منخفض الفيوم . - يستخدم كمصرف للمياه الزائدة عن حاجة الرى فى الفيوم . - يعد محمية طبيعية تحوى العديد من الطيور المهاجرة والحيوانات البرية . ص ٦٢

## ( ج ) ٣ درجات لكل مفردة درجة

- ١- الأرض الطينية السوداء شديدة الخصوبة التى كونها النهر من إرسابات الغرين على جانبي فرعى رشيد ودمياط وبالقرب من المصب . أو ( هى الأراضى الواقعة إلى الشمال والشمال الشرقى والشمال الغربى من نقطة تفرع النيل عند القناطر الخيرية ) . ص ٥٥ ، ٥٦
- ٢- حالة سكون الهواء تماما فى فصل الصيف . ص ٧٣
- ٣- تقسيم السكان حسب العمر إلى فئات عمرية . ص ٨٣

## إجابة السؤال الثالث : ( ١٥ درجة ) [ ( أ ) ٧ درجات - ( ب ) ٦ درجات - ( ج ) درجتان ]

## ( أ ) ٧ درجات لكل مفردة درجة [ نصف للإشارة ونصف للسبب ]

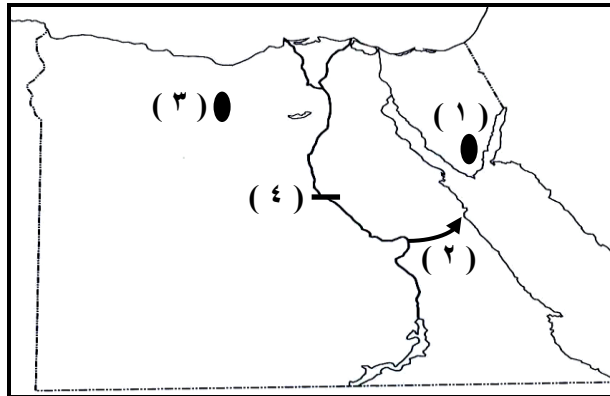
- ١- ( خطأ ) يعد نهر كاجيرا هو البداية الحقيقية للمنابع الاستوائية . ص ١٠
- ٢- ( خطأ ) حيث يزداد النيل الأزرق قوة وضخامة في كل خطوة يخطوها بسبب ما يصله من الروافد والأمطار على عكس نيل فيكتوريا . ص ١٠ ، ١٤
- ٣- ( خطأ ) أقيم على النيل الأبيض لصالح مصر .  
( أو أقيم سد الروصيرص وسنار على النيل الأزرق لصالح السودان ) . ص ٣١
- ٤- ( خطأ ) تهب الرياح الشمالية على مصر في فصل الصيف وتعرف بالرياح التجارية . ص ٧٣
- ٥- ( صح ) بسبب الضغوط الاقتصادية والكثافات السكانية العالية في محافظات جنوب الصعيد وبحثاً عن فرص العمل المختلفة . ص ٨٩
- ٦- ( صح ) لأنها تضم مساحات صحراوية ومستنقعية . ص ٨٢
- ٧- ( خطأ ) تأخذ ترعة النصر مياهها من ترعة النوبارية . ص ١٠٠

## ( ب ) ٦ درجات كل مفردة ٣ درجات

- ١- أدى الأخدود الأفريقي إلى انحدار هضبة الحبشة من الجنوب الشرقي إلى الشمال الغربي وأصبح اتجاه الروافد الحبشية من الجنوب الشرقي إلى الشمال الغربي وكذلك دخول معظم هضبة الحبشة ضمن حدود حوض النيل وأصبحت الروافد عمودية على الأخدود . ص ١٥
- ٢- أصبحت أكثر مناطق الدلتا كثافة سكانية هي أحسنها تربة وأكثرها حظاً في ماء الري وأصبحت شمال الدلتا أقلها كثافة سكانية لوجود المستنقعات وقلت الكثافة السكانية بالاتجاه شرق الدلتا أو غربها لارتفاع نسبة الرمال . ص ٨١

## ( ج ) درجتان لكل مفردة نصف درجة

( تحتسب الدرجتان للتوقيع على الخريطة فقط )



## إجابة السؤال الرابع : ( ١٥ درجة ) [ ( أ ) ٦ درجات – ( ب ) ٨ درجات – ( ج ) درجة واحدة ]

( أ ) ٦ درجات لكل مفردة درجتان ( تراعى الإجابات المنطقية )

١- زاد الفاقد بالبحر – زاد الفاقد بالتسرب – لم يصل إلى مصر سوى كميات قليلة من المياه – سهولة الملاحة .

ص ١٦

٢- زادت المياه فى الصحراء الشرقية – امتلأت الأودية الجافة بالمياه – نمو الغابات والحشائش – زيادة مساحة

الأرض الزراعية – تغيير شكل التركيز السكانى . ص ٧٤ - ٧٧

٣- انخفض معدل الزيادة السكانية فى مصر – انعكس ذلك على الأحوال الاقتصادية والاجتماعية – خفض معدل

استيراد المواد الغذائية . ص ٨٥ ، ٨٧

( ب ) ٨ درجات

١- درجتان لكل خصائص درجة

خصائص المرحلة البدائية	خصائص مرحلة الانفجار
- ارتفاع معدلات الوفيات .	- هبوط معدلات الوفيات . ص ٨٦
- ارتفاع معدلات المواليد .	- ثبات معدلات المواليد المرتفعة .
- خرج منها المجتمع فى أوائل القرن ال ١٩ .	- بدأت هذه المرحلة من الانحسار فى مصر .

٢- درجتان

- تجود زراعة القمح فى التربة الخصبة جيدة الصرف ودفء المناخ . ( درجة )

- تتركز فى الشرقية والدقهلية والبحيرة ومصر الوسطى بالفيوم والمنيا وفى الصعيد فى أسوان وسوهاج وعلى

المطر فى شمال سيناء ومطروح . ( درجة ) ص ١٠٤

٣- يمكن تنمية الثروة الحيوانية عن طريق : ( درجتان )

- تشجيع الاستثمار فى الثروة الحيوانية .

- الارتقاء بأنواع الماشية .

- مقاومة الأمراض وتوفير الرعاية البيطرية .

- إدخال الميكنة الزراعية . ص ١١١ ( تراعى الإجابات المنطقية )

٤- للطالب حرية الإجابة فى ضوء ما يلى : ( درجتان )

- توفير القروض الميسرة .

- توفير الحماية الجمركية .

- توفير البنية الأساسية .

- منح تسهيلات فى المدن الجديدة . ص ١٢٥ ( تراعى الإجابات المنطقية )

( ج ) ( درجة واحدة ) للطالب حرية الإجابة بحيث تكون الإجابة منطقية .

انتهى نموذج الإجابة